

**Тест: "Устройство компьютера".**

Тестируемый: \_\_\_\_\_ Дата: \_\_\_\_\_

**Задание №1**

Компьютер это -

Выберите один из 5 вариантов ответа:

1)	электронное вычислительное устройство для обработки чисел;
2)	устройство для хранения информации любого вида;
3)	устройство модуляции/демодуляции сигналов;
4)	устройство для обработки аналоговых сигналов;
5)	многофункциональное электронное устройство для работы с информацией;

**Задание №2**

Слово "компьютер" в переводе на русский язык означает ...

Выберите один из 5 вариантов ответа:

1)	умножитель
2)	вычислитель
3)	делитель
4)	разложитель
5)	потрошитель

**Задание №3**

Совокупность программ, хранящихся на компьютере, называется:

Выберите один из 5 вариантов ответа:

1)	Аппаратное обеспечение
2)	Компьютерное обеспечение
3)	Программное обеспечение
4)	Системное обеспечение
5)	BIOS

**Задание №4**

Система взаимосвязанных технических устройств, выполняющих ввод, хранение, обработку и вывод информации называется:

Выберите один из 5 вариантов ответа:

1)	Системное обеспечение
2)	Аппаратное обеспечение
3)	Компьютерное обеспечение
4)	BIOS

5)		Программное обеспечение
----	--	-------------------------

#### Задание №5

Во время исполнения программа находится в

Выберите один из 5 вариантов ответа:

1)		буфере
2)		чипсете
3)		процессоре
4)		оперативной памяти
5)		клавиатуре

#### Задание №6

Для длительного хранения данных и программ широко применяется -

Выберите один из 5 вариантов ответа:

1)		Видеокарта
2)		Оперативная память
3)		Жесткий диск
4)		Чипсет
5)		Процессор

#### Задание №7

При отключении компьютера информация стирается:

Выберите один из 5 вариантов ответа:

1)		на жестком диске
2)		из ПЗУ
3)		на компакт-диске
4)		из оперативной памяти
5)		на магнитном диске

#### Задание №8

Производительность работы компьютера (быстрота выполнения операций) зависит от:

Выберите один из 5 вариантов ответа:

1)		объема обрабатываемой информации
2)		тактовой частоты процессора
3)		форм фактора жесткого диска
4)		быстроты нажатия на клавиши
5)		размера экрана монитора

#### Задание №9

Устройством вывода информации является:

Выберите несколько из 6 вариантов ответа:

1)		клавиатура
2)		сканер
3)		мышь
4)		колонки
5)		монитор
6)		принтер

#### Задание №10

Какие устройства **не** являются внешними?

Выберите несколько из 5 вариантов ответа:

1)		сканер
2)		видеокарта
3)		жесткий диск
4)		веб-камера
5)		принтер

#### Задание №11

Принтер, в котором чернильная печатающая головка под давлением выбрасывает чернила из ряда мельчайших отверстий на бумагу называется

Выберите один из 5 вариантов ответа:

1)		сублимационным
2)		лазерным
3)		капельным
4)		струйным
5)		матричным

#### Задание №12

Устройство для автоматического ввода текстов и графики в компьютер называется

Выберите один из 5 вариантов ответа:

1)		винчестер
2)		сканер
3)		принтер
4)		коммуникационный порт
5)		мышь

#### Задание №13

Манипулятор "мышь" - это устройство:

Выберите один из 5 вариантов ответа:

1)		для подключения принтера к компьютеру
2)		считывание информации

3)		выхода в Интернет
4)		модуляции и демодуляции
5)		ввода информации

#### Задание №14

Специализированный порт для подключения мыши и клавиатуры – это

Выберите один из 5 вариантов ответа:

1)		LTP
2)		FDD
3)		PS/2
4)		USB
5)		COM

#### Задание №15

Какое это устройство (см. рисунок)?




Выберите один из 5 вариантов ответа:

1)		DVD-ROM
2)		Оперативная память
3)		Жесткий диск
4)		Процессор
5)		Видеокарта

#### Задание №16

Какое это устройство (см. рисунок)?



Выберите один из 5 вариантов ответа:

1)		Оперативная память
2)		Сетевая карта
3)		Видеокарта
4)		DVD-ROM
5)		Процессор

### Задание №17

Какое это устройство (см. рисунок)?



Выберите один из 5 вариантов ответа:

1)		Сетевая карта
2)		Оперативная память
3)		Принтер
4)		Видеокарта
5)		Жесткий диск

### Задание №18

Какое это устройство (см. рисунок)?



Выберите один из 5 вариантов ответа:

1)	Процессор
2)	Принтер
3)	Жесткий диск
4)	Видеокарта
5)	DVD-ROM

#### Задание №19

Какое это устройство (см. рисунок)?



Выберите один из 5 вариантов ответа:

1)	Жесткий диск
2)	Сетевая карта
3)	Материнская плата
4)	Процессор
5)	Видеокарта

#### Задание №20

Сопоставьте носители информации и их возможные информационные размеры.

Укажите соответствие для всех 5 вариантов ответа:

1)		Дискета	1)	1,44 Мбайт
2)		Жесткий диск	2)	1 Тбайт
3)		CD-ROM	3)	4,7 Гбайт
4)		Флеш-накопитель	4)	16 Гбайт
5)		DVD-ROM	5)	800 Мбайт

#### Задание №21

Порт с высокой производительностью (до 12 Мбайт/с), при подключению к которому не требуется выключать оборудование перед стыковкой и к которому могут подключаться многие модели современной периферийного оборудования -

Выберите один из 5 вариантов ответа:

1)		PS/2
2)		LTP
3)		FDD
4)		USB
5)		COM

#### Задание №22

Диски информация на которые может быть записана только один раз -

Выберите один из 5 вариантов ответа:

1)		DVD
2)		DVD-R
3)		DVD-RW
4)		HDD
5)		DVD-W

#### Задание №23

Компакт-диск (CD) - это:


Выберите один из 4 вариантов ответа:

1)		оптический диск, информация с которого считывается лазерным лучом
2)		сменный магнитный диск малого размера
3)		диск после выполнения операции сжатия информации
4)		диск малого размера

#### Задание №24

Укажите на рисунке специализированные порты для подключения клавиатуры и мыши...

Укажите место на изображении:



### Задание №25

Укажите на рисунке порты для подключения акустической системы...

Укажите место на изображении:




### Задание №26

Укажите на рисунке USB порт...

Укажите место на изображении:








### Задание №28

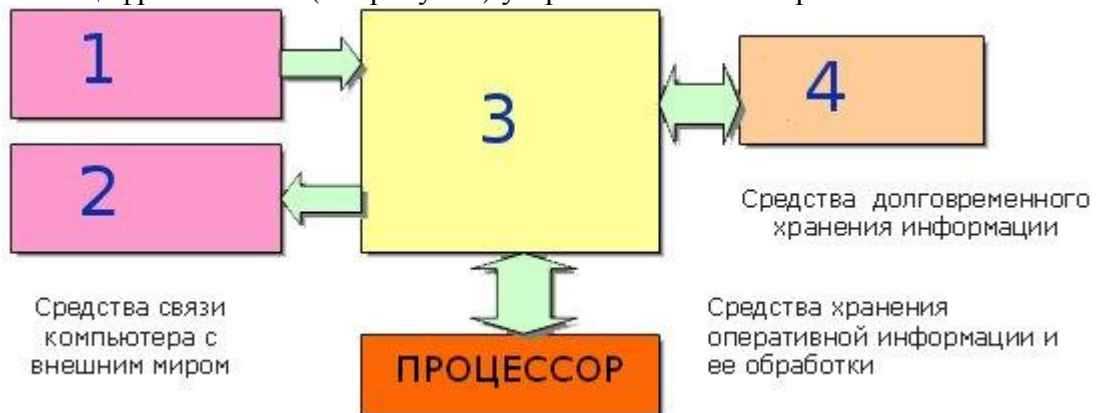
Укажите куда на материнской плате подвключается оперативная память...

Укажите место на изображении:



### Задание №29

Сопоставьте цифры на схеме (см. рисунок) устройства компьютера...



Укажите соответствие для всех 4 вариантов ответа:

1)		Внешняя память	1)	1
2)		Устройства ввода	2)	2
3)		Устройства вывода	3)	3

4)	Внутренняя память	4)	4
----	-------------------	----	---

### Задание №30

Что забыли дописать на схеме устройства компьютера?



Запишите ответ:

1)	Ответ:	
----	--------	--

### Задание №31

Для чего необходимо устройство на рисунке?



Выберите один из 5 вариантов ответа:

1)	для подключения к сети
2)	для охлаждения процессора
3)	оно не имеет никакого отношения к компьютерам
4)	для обдува программиста в жаркое время года
5)	для хранения информации во время работы компьютера

### Задание №32

Какое устройство изображено на рисунке?



Выберите один из 6 вариантов ответа:

1)	процессор
2)	видеокарта
3)	ТВ-тюнер
4)	оперативная память
5)	жесткий диск
6)	материнская плата

### Задание №33

Какое устройство изображено на рисунке?



Выберите один из 6 вариантов ответа:		
1)		жесткий диск
2)		видекарта
3)		процессор
4)		ТВ-тюнер
5)		оперативная память
6)		материнская плата

### Задание №34

*Основные характеристики:*

...

*Физический размер (форм-фактор) - почти все современные ... для персональных компьютеров и серверов имеют размер либо 3,5, либо 2,5 дюйма. Последние чаще применяются в ноутбуках.*

...

Про что идет речь?

Выберите один из 6 вариантов ответа:

1)		материнская плата
2)		ТВ-тюнер
3)		оперативная память
4)		видекарта
5)		процессор
6)		жесткий диск

### Задание №35

*Основная характеристика ... – тактовая частота (измеряется в мегагерцах (МГц) и гигагерцах (ГГц)). Чем выше тактовая частота, тем выше производительность компьютера. Есть еще несколько важных характеристик ... – тип ядра и технология производства, частота системной шины.*

Про что идет речь?

Выберите один из 6 вариантов ответа:

1)		процессор
2)		ТВ-тюнер
3)		оперативная память
4)		видекарта
5)		материнская плата
6)		жесткий диск

### Задание №36

*... – внутренне устройство, устанавливается в один из разъемов материнской платы, и*

служит для обработки информации, поступающей от процессора или из ОЗУ на монитор, а также для выработки управляющих сигналов.

Про что идет речь?

Выберите один из 6 вариантов ответа:

1)		материнская плата
2)		жесткий диск
3)		оперативная память
4)		процессор
5)		видеокарта
6)		ТВ-тюнер

### Задание №37

Какое устройство служит для связи удалённых компьютеров по телефонной сети?



Запишите ответ:

1)	Ответ:	
----	--------	--

### Задание №38

Они бывают:

- матричные
- сублимационные
- струйные
- лазерные

Про что идет речь?

Выберите один из 6 вариантов ответа:


1)		адаптер
2)		сканер
3)		монитор
4)		принтер
5)		процессор
6)		диски

MyTestXPro  
НЕЗАРЕГИСТРИРОВАННАЯ ВЕРСИЯ  
<http://mytest.klyaksa.net>




**Тест: "Устройство компьютера".**


**Ответы:**

#1 (1 б.)	5
#2 (1 б.)	2
#3 (1 б.)	3
#4 (1 б.)	2
#5 (1 б.)	4
#6 (1 б.)	3
#7 (1 б.)	4
#8 (1 б.)	2
#9 (1 б.)	4, 5, 6
#10 (1 б.)	2, 3
#11 (1 б.)	4
#12 (1 б.)	2
#13 (1 б.)	5
#14 (1 б.)	3
#15 (1 б.)	4
#16 (1 б.)	4
#17 (1 б.)	2
#18 (1 б.)	3
#19 (1 б.)	3
#20 (1 б.)	1=1, 2=2, 3=5, 4=4, 5=3
#21 (1 б.)	4
#22 (1 б.)	2
#23 (1 б.)	1
#24 (1 б.)	


#25 (1 6.)




#26 (1 6.)



#27 (1 6.)



#28 (1 6.)



#29 (1 6.) 1=4, 2=1, 3=2, 4=3

#30 (1 6.) Ответ = процессор

#31 (1 6.) 2

#32 (1 6.) 2

#33 (1 6.) 4

#34 (1 6.) 6

#35 (1 6.) 1

#36 (1 6.) 5

#37 (1 6.) Ответ = модем

#38 (1 6.) 4